

令和4年度  
中学校入学試験問題

社 会

注意事項

1. 試験開始の合図があるまで、この問題冊子の中を見てはいけません。  
試験開始までの間、この注意事項をよく読んで下さい。
2. この問題冊子は14ページです。
3. この問題冊子や解答用紙に印刷が悪くて見にくいところや汚れなどがある場合は、手をあげて監督かんとくの先生に知らせて下さい。
4. 答えはすべて別紙の解答用紙に書き、記号で答えられるものはすべて記号で答えなさい。漢字の指定のあるものはかならず漢字で書きなさい。
5. 解答用紙の受験番号、氏名は最初に記入して下さい。
6. 試験終了後は解答用紙のみを提出し、問題冊子はそれぞれ持ち帰って下さい。

I. 次の文章を読み、問いに答えなさい。

新型コロナウイルス感染症<sup>かんせんしやう</sup>が世界的に広がり、もっとも打撃<sup>だげき</sup>を受けた産業の一つに観光業があります。近年、観光業は目覚ましい発展をしてきました。一方でさまざまな問題も発生しました。みなさんは「オーバーツーリズム<sup>①</sup>」という言葉を知っていますか。「オーバーツーリズム」とは、たくさんの観光客<sup>お</sup>が押し寄せることによって、ある地域や都市がマイナスの影響<sup>えいきやう</sup>を受けることを言います。例えば、観光スポットや公共空間で混雑が発生したり、自然環境が劣化<sup>れつか</sup>したり、観光客のマナーの悪さが住民に被害<sup>ひがい</sup>をもたらしたりしました。また、ホテルやお店がたくさんできることによって、地域住民の住環境が悪化しました。

オーバーツーリズム都市の代表格としてバルセロナ<sup>②</sup>があげられます。バルセロナはガウディが設計したサグラダ・ファミリアなどがある芸術の都市として知られています。1992年にオリンピック<sup>かいさい</sup>が開催された頃<sup>ころ</sup>から観光客が急増しました。2014年にはオーバーツーリズムに対する抗議<sup>こうぎ</sup>デモが始まり、国内外のメディアに取り上げられるようになりました。水の都として知られるイタリアのベネチアは、旧市街地が島として独立していて、観光地化<sup>きやうたん</sup>が極端に進み、オーバーツーリズム問題が起きました。ドイツのベルリンも1990年の東西ドイツ統一以来、観光客が急増して、オーバーツーリズム問題が発生しました。<sup>③</sup>ギリシアのサントリーニ島<sup>④</sup>は、真っ青な海と空を背景に白壁<sup>かべ</sup>の歴史的街並みが美しい島です。このエーゲ海の小さな島に観光客が押し寄せました。

日本を代表する人気観光地である京都<sup>⑤</sup>は、早くからオーバーツーリズム問題に直面してきました。近年は、日本の最高峰<sup>ほう</sup>である富士山<sup>⑥</sup>も世界遺産認定を機に観光客が急増し、登山者の渋滞<sup>じゆうたい</sup>やゴミ問題が深刻化しました。本州に限らず、大分県<sup>⑦</sup>の温泉地である由布院<sup>ゆふいん</sup>（湯布院）<sup>⑧</sup>や北海道<sup>⑨</sup>のスキーリゾート地であるニセコ<sup>⑩</sup>でも起こりました。

新型コロナウイルス感染症の流行により、オーバーツーリズム問題は突然に終息しました。今後、アフターコロナの世界では新しい生活様式に合った観光が再開していくでしょう。これまでの経験を踏まえ、観光客と地域住民にとってより望ましい観光が求められています。

問1. 下線部①に関連して、21世紀に入ってから観光客の増加の原因として、誤っているものをア～エから一つ選びなさい。

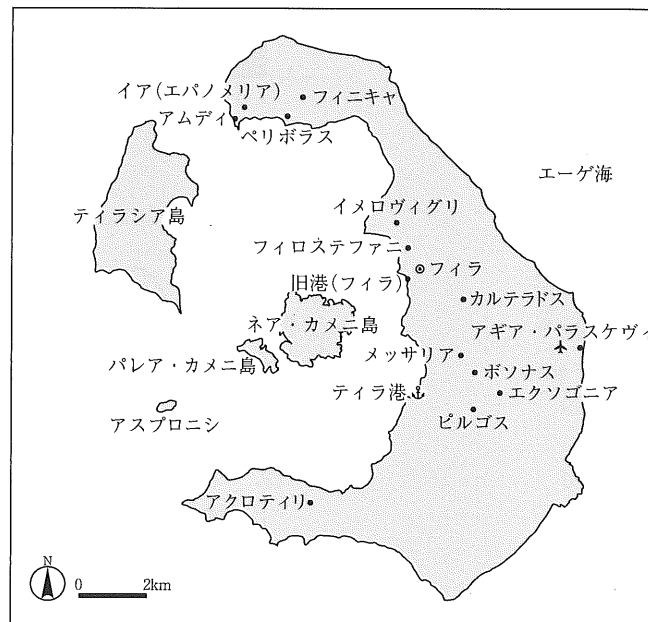
- ア. LCC と呼ばれる格安航空会社が登場した。
- イ. SNS によって手軽に旅行に関する情報が手に入るようになった。
- ウ. 旅行を楽しむことのできる中間層の人々が欧米で爆発的に増加した。
- エ. クルーズ船の大型化が進み、低価格で利用できるようになった。

問2. 下線部②のバルセロナはどこの国の都市か、国名を答えなさい。

問3. 下線部③のベルリンについての記述として正しいものをア～エから一つ選びなさい。

- ア. 年平均気温は名古屋より高い。
- イ. 冷戦期に西ベルリンは壁で囲まれていた。
- ウ. モーツァルトの出身地である。
- エ. EU本部が置かれている。

問4. 下線部④に関連して、次の図はサントリーニ島の地図です。この地域は火山が大爆発を起こしたため、中央部が<sup>かんぼつ</sup>陥没し、大きなくぼ地が海底になり、<sup>がいりんざん</sup>外輪山が島になりました。このような地形は日本にも見られますが、何と言いますか。

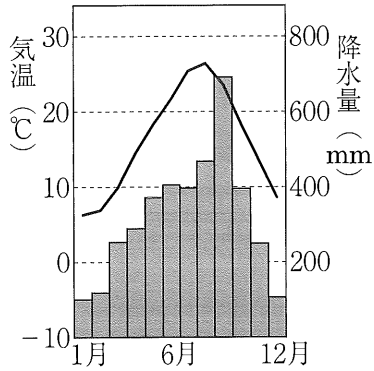


問5. 下線部⑤に関連する問いに答えなさい。

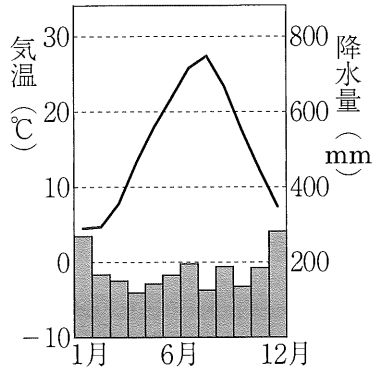
- i 次のア～エは、下の地図中の敦賀、京都、岡山、尾鷲のいずれかの都市の雨温図です。

京都の雨温図をア～エから一つ選びなさい。

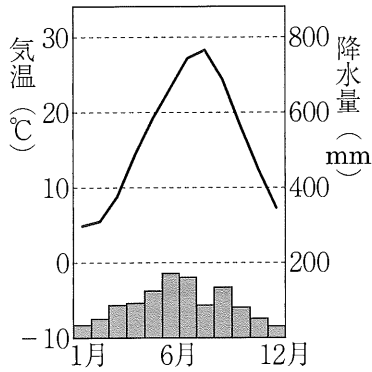
ア.



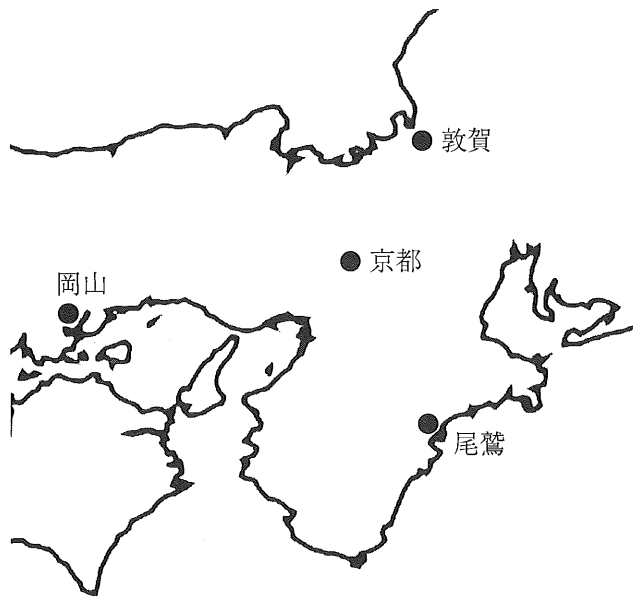
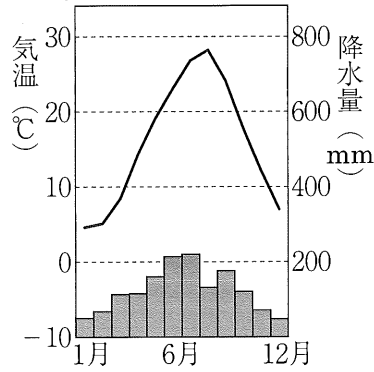
イ.



ウ.



エ.



- ii 京都の水源である琵琶湖を解答用紙の地図に描き入れなさい。

問6. 下線部⑥の富士山に関する記述として、誤っているものをア～エから一つ選びなさい。

- ア. 標高は、世界最高峰の山の2分の1より高い。
- イ. 何度も噴火を繰り返した火山である。
- ウ. 地下水が豊富で、飲料水などに利用されている。
- エ. 江戸時代には葛飾北斎が浮世絵に描いた。

問7. 下線部⑦に関連して、次のア～エはいずれかの都道府県の海岸線を表している。大分県の海岸線として適当なものをア～エから一つ選べ。

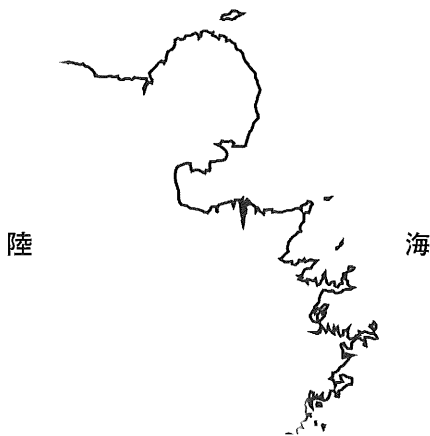
ア.



イ.



ウ.



エ.



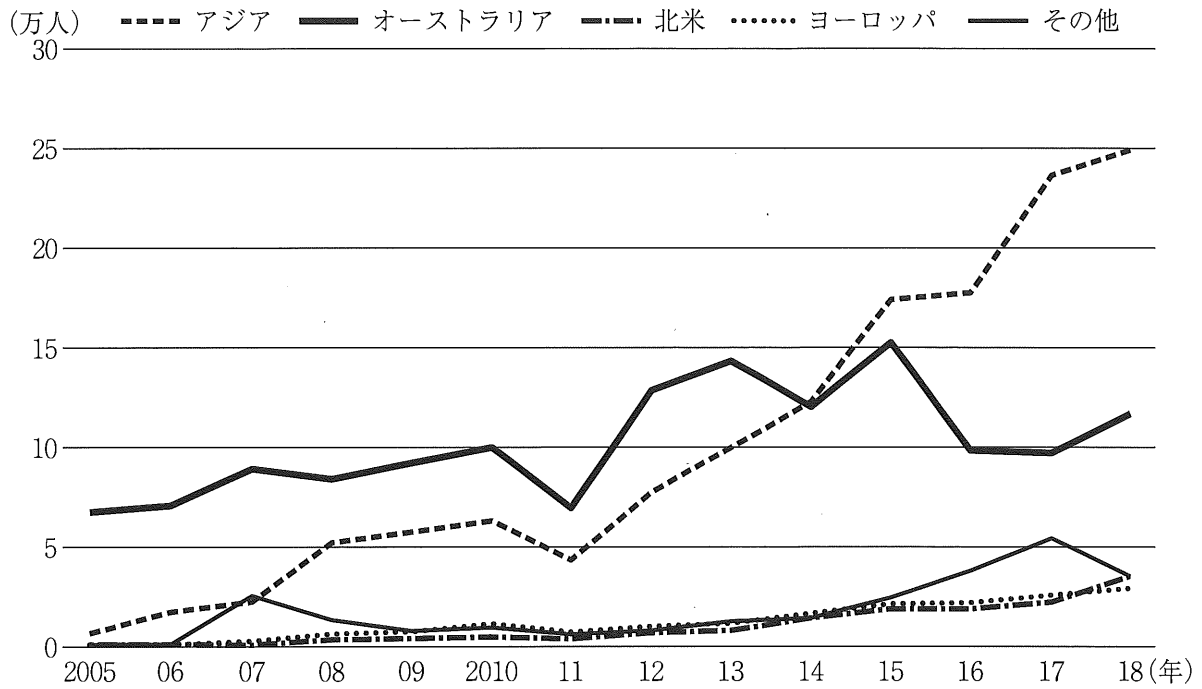
問8. 下線部⑧の由布院と同じように温泉があることで発達した温泉地として、誤っているものをア～エから一つ選びなさい。

- ア. 草津
- イ. 金沢
- ウ. 下呂
- エ. 熱海

問9. 下線部⑨に関連して、次の北海道の地図のA山脈の名前を漢字で答えなさい。



問10. 下線部⑩に関連して、次のグラフはニセコの外国人旅行者数の移り変わりを表しています。2005年からオーストラリアが最も多く、近年はアジアが増えています。長期間、オーストラリアが多かった理由として、誤っているものをア～エから一つ選びなさい。



外国人旅行者数の<sup>へんせん</sup>変遷 (出典：倶知安町)

- ア. オーストラリアは北米より人口が多いから。
- イ. オーストラリアは季節が日本と逆だから。
- ウ. オーストラリアは北米より距離が近いから。
- エ. オーストラリアは日本と時差が小さく、旅行しやすいから。

問11. 外国人観光客に名古屋、あるいはあなたがよく知っている市町村の魅力<sup>みりょく</sup>を伝える文章を80～100字で書きなさい。市町村名を明記の上、歴史や産業、名所、名物などに関して、3つ以上紹介すること。

II. 次の文章を読み、問いに答えなさい。

現代の日本は、多くの国々と交流をしています。過去においても、時代ごとに様々な国際交流がありました。大和政権がつくられた頃、日本には中国や朝鮮半島から渡来人がやってきました。奈良時代に遣唐使を通じて、中国などの文化や制度がもたらされ、日本の国家造りに生かされました。また、平安時代の終わりごろには、平氏が中国との交易を背景に繁栄しましたが、その後、源氏による鎌倉幕府が成立しました。織田信長や豊臣秀吉が活躍した頃、日本とヨーロッパとの交流がはじまりました。

しかし、江戸時代には、鎖国政策が行われるようになって外国との交流が制限されるようになりました。幕末には、ペリーが来航して日本は開国しました。これ以降、日本はアメリカやイギリスなどと国交を結んで、貿易が盛んに行われるようになりました。その一方で、日本に不利な不平等条約が結ばれました。

明治政府は、ヨーロッパの進んだ技術や制度を取り入れながら、様々な改革を行いました。19世紀末から、日本は多くの戦争に関与するようになりました。そして中国や東南アジアに進出した日本は、アメリカやイギリスとの関係が悪化して、太平洋戦争が起きました。日本はこの戦争に負けましたが、戦後、国際社会に復帰すると高度経済成長とよばれる経済発展を実現しました。

問1. 下線部①に関連して、次の写真の壁画は渡来人との関連があるとされています。この壁画が発見された古墳の名前を漢字で答えなさい。



問2. 下線部②に関連する問いに答えなさい。


- i 奈良時代のできごととして正しいものを、ア～エから一つ選びなさい。
  - ア. 蘇我氏が本格的な寺院である飛鳥寺を建てた。
  - イ. 鑑真が中国より来日して、唐招提寺を建てた。
  - ウ. 運慶らが、東大寺南大門の金剛力士像をつくった。
  - エ. 慈照寺にある銀閣には、書院造が取り入れられた。

- ii この時代、仏教には社会の不安をしずめる力があると考えられていました。聖武天皇が大仏を建立した理由として、どのような不安をしずめようとしたのか、一つ述べなさい。

問3. 下線部③に関連する問いに答えなさい。

- i 平安時代の終わりごろから鎌倉時代にかけてのできごとア～エを古いものから順番に並び替<sup>か</sup>えなさい。
- ア. 東北地方の平泉を拠点とした藤原氏が滅亡した。  
イ. 承久の乱が発生した。  
ウ. 平治の乱が発生した。  
エ. 元寇で九州がおそわれた。
- ii 平氏政権や鎌倉幕府について、正しいものをア～エから一つ選びなさい。
- ア. 鎌倉幕府の将軍が三代で滅<sup>ほろ</sup>ぶと、北条氏が将軍になった。  
イ. 平氏政権は明との貿易をはじめた。  
ウ. 鎌倉幕府は、家来になった武士の先祖からの領地を認めた。  
エ. 平氏政権は御成敗式目を制定して武士を束<sup>たば</sup>ねた。

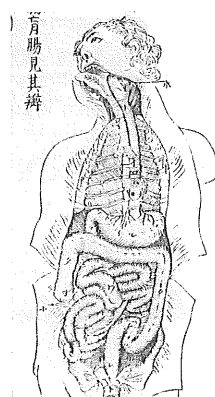
問4. 下線部④に関連して、次の写真は織田信長・豊臣秀吉の時代のヨーロッパの国との貿易をあらわしています。この貿易を何と呼ぶか、漢字で答えなさい。



※著作物について (photo:KobeCityMuseum/DNPartcom)  
狩野内膳 作 南蛮図屏風(右隻) 神戸市立博物館所蔵  
許可なく複製することはできません。

問5. 下線部⑤に関連する問いに答えなさい。

- i 鎖国が行われるようになったのは、幕府がキリスト教を禁止したことと関係しています。これと関連のある、1637～38年に九州で起きたできごとの中心人物の名前を漢字で答えなさい。
  
- ii 鎖国のもとの外交の説明として、誤っているものをア～エから一つ選びなさい。
  - ア. オランダ船が出島に来航して貿易を行った。
  - イ. 将軍が交代した際に、朝鮮通信使が幕府に派遣された。
  - ウ. 蝦夷地のアイヌ人と日本人商人が、松前藩で交易を行った。
  - エ. 幕府は琉球に藩を置いて、中国と貿易を行った。
  
- iii 次の写真は、蘭学者の杉田玄白などがオランダの医学書を<sup>ほんやく</sup>翻訳したものの一部です。この本の名前を漢字で答えなさい。



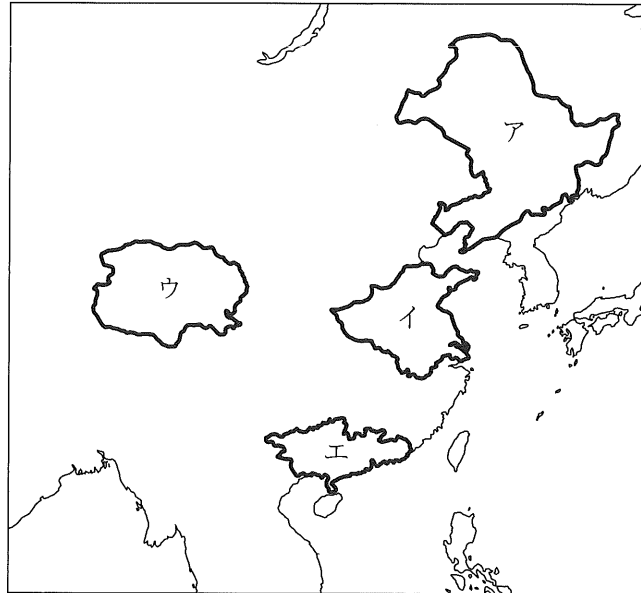
問6. 下線部⑥に関連して、明治政府は不平等条約の改正を求める活動を行いました。条約の改正に関する次のできごとア～エを古いものから順に並び替えなさい。

- ア. 小村寿太郎が関税自主権を回復した。
- イ. 井上馨が主導して、鹿鳴館が完成した。
- ウ. 岩倉具視を中心とする使節団がアメリカなどに派遣された。
- エ. 陸奥宗光が領事裁判権の<sup>てっばい</sup>撤廃に成功した。

問7. 下線部⑦に関連して、明治政府による改革の一つである地租改正について、誤っているものをア～エから一つ選びなさい。

- ア. はじめ、税率は土地の価格の3パーセントに定められた。
- イ. 明治政府の収入を安定させるために行われた。
- ウ. 多くの地域で、江戸時代より税の負担が軽くなった。
- エ. 不作の年も同じ額の税を納めなければならなかった。

問 8. 下線部⑧に関連して、満州国に当たる場所を次の地図のア～エから一つ選びなさい。



問 9. 下線部⑨に関連して、正しいものをア～エから一つ選びなさい。

- ア. 日本は、ドイツやフランスと同盟を結んで戦った。
- イ. 日本は、ハワイにあるイギリスの軍港を攻撃した。
- ウ. 沖縄県では地上戦が行われて、多くの県民が亡くなった。
- エ. 広島と長崎に原子爆弾が落とされる直前に、日本とソ連は和平を結んだ。

問10. 下線部⑩に関連して、誤っているものをア～エから一つ選びなさい。

- ア. 東海道新幹線や名神高速道路が開通した。
- イ. 3Cと呼ばれた白黒テレビ・電気洗濯機・電気冷蔵庫が普及した。
- ウ. 東京オリンピックの開催で日本の戦後復興をアピールした。
- エ. 石油危機（オイルショック）がおこって、高度経済成長は終わった。

Ⅲ. 次の「国民の祝日」についての資料を読み、問いに答えなさい。

〔資料〕

① 内閣府は、「国民の祝日」に関する法律を以下のように定める。

第1条

自由と平和を求めてやまない日本国民は、美しい風習を育てつつ、よりよき社会、より豊かな生活を築きあげるために、ここに国民こぞって祝い、感謝し、又は記念する日を定め、これを「国民の祝日」と名づける。

第2条

「国民の祝日」を次のように定める。

〔名称〕	〔日付〕	〔備考〕
天皇誕生日	2月23日	天皇の誕生日を祝う。 ④
春分の日	春分日	自然をたたえ、生物をいつくしむ。 ⑤
昭和の日	4月29日	激動の日々を経て、復興を遂げた昭和の時代を顧み、 国の将来に思いをいたす。
敬老の日	9月の第3月曜日	多年にわたり社会につくしてきた老人を敬愛し、 長寿を祝う。 ⑥
⑦ <u>スポーツの日</u>	10月の第2月曜日	スポーツを楽しみ、他者を尊重する精神を培うとともに、 健康で活力ある社会の実現を願う。 ⑧

(内閣府のホームページより作成)


※作問の都合上、一部の祝日のみ掲載。

問1. 下線部⑦の内閣に関連して、正しいものをア～エから一つ選びなさい。

- ア. 国会が作成した予算について決定する権限がある。
- イ. 内閣総理大臣が国務大臣の任命を行う。
- ウ. 閣議決定は、全会一致となることは少ない。
- エ. 環境省が新型コロナウイルスのワクチン接種方法のお知らせを出している。

問2. 下線部②に関連して、正しいものをア～エから一つ選びなさい。

- ア. 国際の平和と安全維持<sup>いじ</sup>を目的とした国際連合の本部は、アメリカにある。
- イ. かつてノーベル平和賞を受賞した下の写真の人物は、2021年、ミャンマーで拘束<sup>こうそく</sup>された。
- ウ. 毎年8月6日には、「長崎原爆犠牲者慰霊平和祈念式典<sup>ぎせいしやいれい きねん</sup>」が開催されている。
- エ. 非核三原則は、核兵器を「持たない、買わない、持ちこませない」からなる。



問3. 下線部③に関連して、ひかるさんとあやかさんの2人が会話をしています。会話文中の下線部ア～エの中には誤りがあります。誤っているものをア～エからすべて選びなさい。

- ひかる 私は18歳になったので、選挙で投票できるようになりました。
- あやか <sup>(ア)</sup> 良かったね。今度の選挙には行く予定はありますか。
- ひかる 行ってみたいけど、その日は都合が悪くて行けなさそうです。
- あやか そうなんですね。それは、残念。でも、選挙に行くのは憲法で国民の義務となっているんですよ。さかのぼると、日本で初めて男女ともに普通選挙権が認められたのは1925年になります。<sup>(イ)</sup>男女ともに選挙権が認められるまでにはすごく時間がかかったんです。
- ひかる それは知らなかったです。ところで、私たちが選挙に行くことで良いことはありますか。
- あやか 私たちの暮らしが良くなると考えています。選挙は国民の代表者である国会議員を決める大事な仕事なんです。
- ひかる 国会議員は何をするのですか。
- あやか 国会議員は、私たち国民の生活に関わる大事なことを国会で話し合って決めています。国会には、衆議院と参議院の2つの話し合いの場があります。特に、衆議院は解散があるので、国民の意見を反映しやすいと言われてますよ。<sup>(ウ)</sup>
- ひかる 色々と教えてくれてありがとうございます。もとの予定を変えて選挙に行ってみようと思います。



問8. 下線部⑧に関連して、「健康」について、ひかるさんとあやかさんの2人が会話をしています。会話文を読み、問いに答えなさい。

ひかる 私は昨日、健康診断<sup>しんだん</sup>に行ってきました。

あやか 結果は、どうでしたか。

ひかる まだ分からないです。でも、いつも健康診断を受けるたびに健康であることに感謝したくなります。

あやか 確かにそうですね。そういえば、健康に関することも「日本国憲法」の中で書かれています。

ひかる 社会科の授業で習った覚えがあります。確か、憲法25条「健康で文化的な最低限度の生活を営む権利<sup>あ</sup>」でしたね。

あやか そうです。ただ、この条文内容をめぐって多くの裁判<sup>い</sup>が行われています。

ひかる そうでしたか。それは知らなかったです。

- i 下線部(あ)に関連して、この権利を守るために、「年金制度」が大きな役割を果たしています。現在、少子高齢化が進む中、「年金制度」が維持しづらくなっています。「年金制度」を維持するためには、あなたはどのようにすればよいと考えますか。自分の考えを書きなさい。

- ii 下線部(い)に関連して、以下はある裁判の状況<sup>じょうきょう</sup>について説明したものです。文章を読み、現在、Aさんの裁判が行われていると考えられる裁判所の名前として正しいものをア～エから一つ選びなさい。

Aさんは、殺人を犯した疑いで罪に問われています。1回目の裁判の内容に不服があったため、控訴<sup>こうそ</sup>し、現在は、2回目の裁判を名古屋で行っているところです。

ア. 家庭裁判所      イ. 地方裁判所      ウ. 高等裁判所      エ. 最高裁判所

問9. 以下は、「憲法記念日」について説明したものです。空欄【あ】に当てはまる日付を答えなさい。

〔名称〕	〔日付〕	〔備考〕
憲法記念日	【あ】	日本国憲法の施行 <sup>しこう</sup> を記念し、国の成長を期する。